



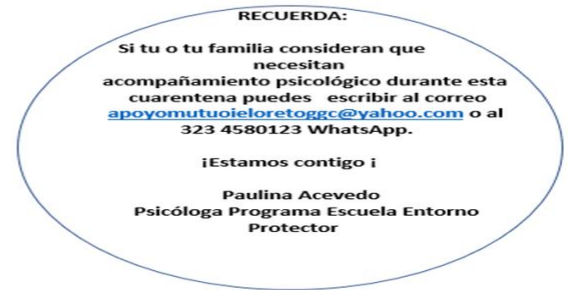
TALLER #3

Actividades Para la semana del 11 al 15 de mayo de 2020- Grado 4°- Grupos: A, B, C

Quiero enviarles nuevamente un fraternal saludo y recordarles que es momento de cuidar a la familia.

El desarrollo de estos talleres debe hacerse en el cuaderno correspondiente, si tiene alguna duda puede escribirme al correo marmora721@hotmail.com.

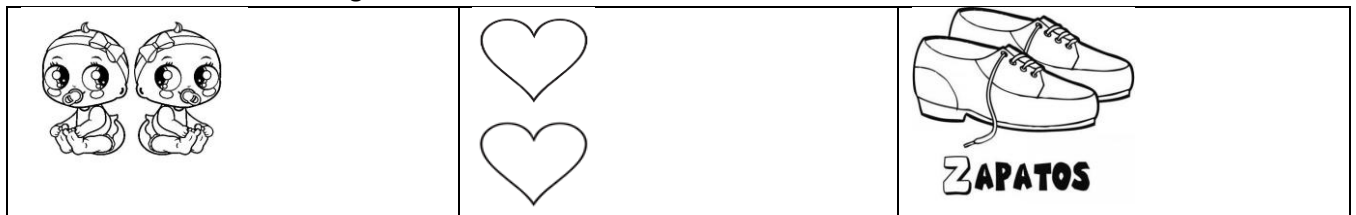
¡Nos veremos pronto!



TALLER #3- MATEMÁTICAS- Grado 4° - Grupos: A, B, C

¡El doble y la multiplicación!

1. Describe cada una de las imágenes.



Recuerda: Describir es explicar cómo es una cosa, una persona o un lugar para ofrecer una imagen o una idea completa de ellos.

2. Completa la tabla:

Unidad	Doble

3. Lee y analiza: Tabla de multiplicar del 2, Multiplicar un número por 2 es equivalente a hallar el doble del número o sumar el número 2 veces.

Multiplicación $\times 2$	Doble	Producto
9×2	$9 + 9$	18
23×2	$23 + 23$	46
2×76	$76 + 76$	152

4. Observo el video <https://www.youtube.com/watch?v=Vpp3yF2KW2Y> para recordar el proceso multiplicativo.

5. Halla el producto de cada multiplicación. a. $17 \times 2 =$ b. $123 \times 2 =$ c. $100 \times 2 =$ b. $2 \times 99 =$

6. Completa la tabla

x	1	2	3	4	5	6	7	8	9
2									
Gráficas			● ● ● ●						

7. Observo los videos y desarrollo las actividades en los siguientes links (cápsulas educativas):

<https://www.youtube.com/watch?v=Vpp3yF2KW2Y> Video

https://aprende.colombiaaprende.edu.co/sites/default/files/naspublic/ContenidosAprender/G_4/M/M_G04_U01_L01/M_G04_U01_L01_03_02.html# Escribir la respuesta en el cuaderno.

https://aprende.colombiaaprende.edu.co/sites/default/files/naspublic/ContenidosAprender/G_4/M/M_G04_U01_L01/M_G04_U01_L01_03_01.html video

https://aprende.colombiaaprende.edu.co/sites/default/files/naspublic/ContenidosAprender/G_4/M/M_G04_U01_L01/M_G04_U01_L01_03_04.html video

Si tienes algún problema con estos links, no realices este punto y continúa con el taller.

8. Lee y resuelve: Mateo tiene 9 años y su hermana Mary 3 años más que Mateo, su amigo Pedro tiene el doble de Mary ¿Cuántos años tiene Pedro? ¿Cuántos años tienen entre los tres?

GEOMETRIA – Grado 4° - Grupos: A, B, C

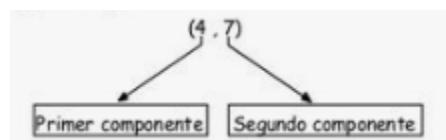
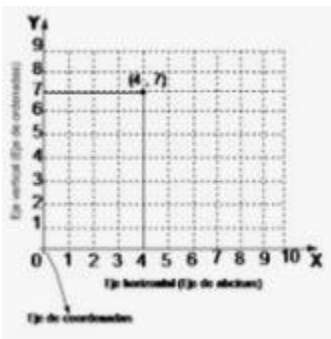
1. Lee comprensivamente la siguiente información:

EL PLANO CARTESIANO

Está formado por dos rectas perpendiculares llamadas ejes: Una horizontal y otra vertical.

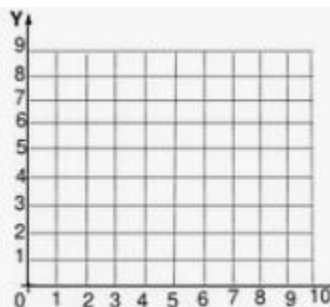
Para señalar la posición de un punto en el plano cartesiano, utilizamos pares ordenados.

Un par ordenado está formado por dos componentes, el primero corresponde al eje horizontal y el segundo al eje vertical.

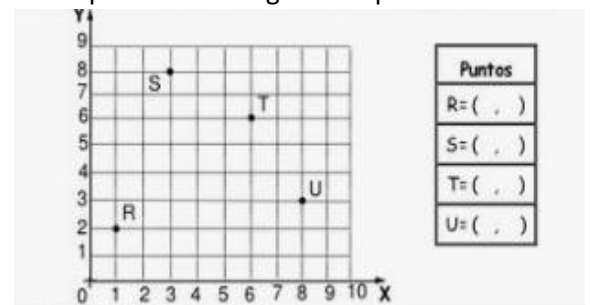


2. Ubica los siguientes puntos en el plano cartesiano

Puntos
A= (2, 7)
B= (5, 5)
C= (9, 6)
D= (6, 1)



3. Indica los pares ordenados que corresponden a los siguientes puntos:



Puntos
R= (,)
S= (,)
T= (,)
U= (,)

